



Ministero dell'Istruzione
dell'Università e della Ricerca



Istituto Nazionale per la valutazione
del sistema educativo di istruzione e di formazione

Rilevazione degli apprendimenti

Anno Scolastico 2004 – 2005

PROVA DI MATEMATICA

Scuola Secondaria di II grado

Classe Terza – Tipo A

Codici

Scuola:

Classe:

Studente:

Spazio per l'etichetta autoadesiva



35201

1. Carla e Anna sono due sorelle nate rispettivamente nel 1989 e nel 1997. In che anno Carla avrà il doppio dell'età di Anna?

- A. Nel 2021.
 - B. Nel 2013.
 - C. Nel 2005.
 - D. Mai.
-

2. In un gruppo di 25 ragazzi, 5 amano il nuoto. Che percentuale rappresentano rispetto al totale del gruppo?

- A. 50%
 - B. 25%
 - C. 20%
 - D. 5%
-

3. Quanto misurano gli angoli interni di un triangolo rettangolo isoscele?

- A. 30° ; 60° ; 90°
- B. 45° ; 90° ; 45°
- C. 60° ; 60° ; 90°
- D. 90° ; 30° ; 30°

4. La seguente tabella mostra i valori assunti da b al variare di a .

a	b
1	0
2	3
3	8
4	15

Quale tra le seguenti uguaglianze rappresenta una delle possibili relazioni tra a e b ?

- A. $b = a + 1$
- B. $b = a^2 - 1$
- C. $b = 2a - 1$
- D. $b = 2a^2 - 1$
-

5. $(a + b)^2 + (a - b)^2 =$

- A. $2a^2 + 2b^2$
- B. $(a + b)^2$
- C. $4ab$
- D. 0



6. Un lato di un quadrato e un lato di un triangolo equilatero, di uguale perimetro, hanno lunghezze la cui somma è 14 m. Quanto misurano rispettivamente il lato del quadrato e quello del triangolo?

A. 5 m e 9 m.

B. 6 m e 8 m.

C. 7 m e 7 m.

D. 8 m e 6 m.

7. Due segmenti misurano 5 dm e 30 cm rispettivamente. Qual è il rapporto fra la lunghezza del secondo segmento e quella del primo?

A. 6

B. $\frac{5}{3}$

C. $\frac{3}{5}$

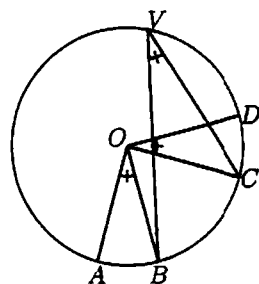
D. $\frac{1}{6}$



8. Per la retta di equazione $y + 2x - 3 = 0$, quale delle seguenti affermazioni è vera?

- A. L'equazione della retta ha coefficiente angolare negativo e la retta interseca l'asse y nel punto di ordinata 3.
 - B. La retta è parallela all'asse delle ascisse e interseca l'asse y nel punto di ordinata 3.
 - C. L'equazione della retta ha coefficiente angolare positivo e la retta incontra l'asse y nel punto di ordinata 3.
 - D. L'equazione della retta ha coefficiente angolare 2 e la retta incontra l'asse y nel punto di ordinata 3.
-

9. Osserva attentamente la figura.



Sapendo che $\widehat{AOB} = \widehat{COD} = \widehat{BVC} = \alpha$, quanto misura \widehat{AOD} ?

- A. α
- B. 2α
- C. 3α
- D. 4α



10. Se si lanciano contemporaneamente due monete, qual è la probabilità che escano una testa e una croce?

A. $\frac{1}{4}$

B. $\frac{1}{3}$

C. $\frac{1}{2}$

D. $\frac{3}{4}$

11. $2^3 + 2^6 =$

A. 2^9

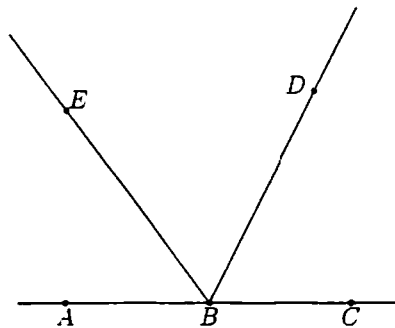
B. 2^{18}

C. 4^9

D. $9 \cdot 2^3$



12. I punti A , B e C sono allineati come in figura.



Se l'angolo \widehat{ABE} misura 54° e BD è la bisettrice dell'angolo \widehat{EBC} , quanto misura l'angolo \widehat{DBC} ?

- A. 26°
 - B. 36°
 - C. 54°
 - D. 63°
-

13. Quale fra le seguenti equazioni non ammette soluzioni reali?

- A. $x^2 + 5x + 6 = 0$
- B. $x^2 + 9 = 0$
- C. $x^2 - 4 = 0$
- D. $x^2 - 6x = 0$



14. Il Ministero dell'Istruzione ha diffuso le seguenti informazioni sul numero di alunni stranieri nella scuola italiana nell'anno scolastico 2003-2004. La tabella riporta solo le 5 nazionalità più numerose.

Nazionalità più numerose	Numero di alunni	Percentuale di alunni sul totale degli stranieri
Albania	50000	18%
Marocco	42000	15%
Romania	28000	10%
Cina	16000	6%
Ecuador	11000	4%

Che cosa si può dedurre da tali dati sugli alunni stranieri di nazionalità russa?

Sono...

- A. meno di 11000.
- B. sicuramente meno di 400.
- C. una percentuale compresa fra il 4% e il 18%.
- D. assenti dalle scuole italiane.

-
15. Quale tra le seguenti affermazioni, riferite ai numeri naturali, è FALSA?


- A. I numeri primi sono infiniti.
- B. Un numero primo è divisibile solo per 1 e per se stesso.
- C. I divisori di un numero sono infiniti.
- D. Un numero primo maggiore di 2 non può avere 2 come cifra finale.



16. Qual è la rappresentazione grafica nel piano cartesiano dell'equazione $y = 2$?

- A. Un segmento sull'asse y .
 - B. Una retta parallela all'asse y .
 - C. Una retta parallela all'asse x .
 - D. Un punto sull'asse y .
-

17. Osserva attentamente la figura.



Quanti sono i quadrati che si possono vedere nella figura?

- A. 9
- B. 10
- C. 12
- D. 14



18. Le seguenti scritture: $\frac{2}{100}$; 0,002 ; 0,02 ; $2 \cdot 10^{-2}$ rappresentano lo stesso numero tranne una. Quale?

- A. $\frac{2}{100}$
- B. 0,002
- C. $2 \cdot 10^{-2}$
- D. 0,02
-

19. A , B e C sono tre punti nel piano tali che per i seguenti tre angoli, tutti minori di un angolo piatto, valga la relazione $\widehat{BAC} = \widehat{ABC} + \widehat{ACB}$. Quanto vale \widehat{BAC} ?

- A. 70°
- B. 80°
- C. 90°
- D. 100°



20. Quattro amici sostengono l'Esame di Stato conseguendo punteggi la cui media aritmetica è $77,5/100$. Se tre di essi hanno conseguito un punteggio, in centesimi, rispettivamente di 70, 76, 80, quale punteggio ha conseguito il quarto studente?

A. $88/100$

B. $84/100$

C. $78/100$

D. $72/100$

21. Quale dei seguenti prodotti è uguale al trinomio $a^2 - 6a + 5$?

A. $(a-5)(a+1)$

B. $(a+5)(a+1)$

C. $(a+5)(a-1)$

D. $(a-5)(a-1)$



22. Qual è il massimo numero possibile di punti di intersezione fra una circonferenza e un triangolo?

A. 6

B. 5

C. 4

D. 3

23. Se $x = \frac{3}{5}y$ allora...

A. $y = -\frac{5}{3}x$

B. $y = \frac{5}{3}x$

C. $y = 5x + 3$

D. $5x + 3y = 0$



24. La seguente tabella si riferisce alla rilevazione effettuata in una classe 1^a di un Istituto Tecnico.

Sesso	Scuola media di provenienza			
	Scuola A	Scuola B	Scuola C	Altre scuole
Maschi	5	3	4	2
Femmine	6	3	4	3

Qual è la percentuale di alunni provenienti dalla scuola B?

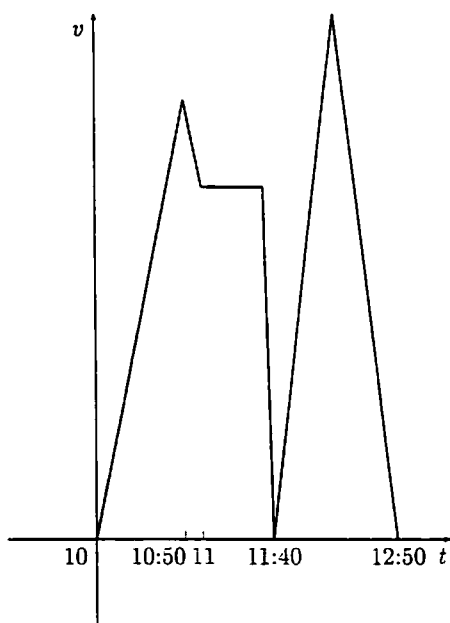
- A. 6%
- B. 12%
- C. 20%
- D. 25%

-
25. Quale delle seguenti relazioni algebriche può essere descritta con la frase: *Il cubo di un numero, aumentato di 2, è uguale al quadrato della differenza tra lo stesso numero e 2?*

- A. $x^3 + 2 = (x - 2)^2$
- B. $(x + 2)^3 = x^2 - 2$
- C. $(x + 2)^3 = (x - 2)^2$
- D. $x^3 + 2 = x^2 - 2$



26. Il grafico rappresenta la velocità di un'automobile in funzione del tempo.



L'automobile parte da ferma alle ore 10 esatte, ad un certo momento si blocca per evitare un incidente, poi riprende a viaggiare fino a quando raggiunge la meta. A che ora l'auto si blocca?

- A. 10.50
- B. 11.00
- C. 11.40
- D. 12.50

27. Quanti sono i piani di simmetria di una sfera?

- A. Nessuno.
- B. Due.
- C. Tre.
- D. Infiniti.



28. A quale delle seguenti percentuali equivale la frazione $\frac{24}{30}$?

A. 60%

B. 70%

C. 72%

D. 80%

29. In una gara di velocità, Mario ha percorso x metri in t secondi e Andrea ha percorso $\frac{5}{8}$ dei metri percorsi da Mario nella metà del tempo. Se entrambi hanno mantenuto una velocità costante, chi dei due è stato più veloce?

A. Andrea.

B. Mario.

C. Uguale, stessa velocità.

D. Le informazioni non sono sufficienti.

30. Qual è la probabilità che su 6 lanci di un comune dado a 6 facce non truccato si abbia per 6 volte il numero 3?

A. Maggiore di $\frac{1}{6}$.

B. Minore di $\frac{1}{6}$.

C. Uguale a $\frac{1}{6}$.

D. Impossibile da stabilire prima dei lanci.

